

# QUIZBOEK



**BEUGEN**

---

## De 1<sup>e</sup> editie van de Dorpsquiz Beugen is mede mogelijk gemaakt door

---

Dorpsraad Beugen	<a href="http://www.beugenbruist.nl">www.beugenbruist.nl</a>
Café-Eethuis-Zaal Het Posthuis	<a href="http://www.posthuisbeugen.nl">www.posthuisbeugen.nl</a>
Beugens Bakhuys	<a href="http://www.beugensbakhuys.nl">www.beugensbakhuys.nl</a>
Bol Adviseurs	<a href="http://www.boladviseurs.nl">www.boladviseurs.nl</a>
Brienen mechanisatie	<a href="http://www.brienen-mechanisatie.nl">www.brienen-mechanisatie.nl</a>
Cafeteria Franny	
Concilio personeelsdiensten	<a href="http://www.concilio-personeel.nl">www.concilio-personeel.nl</a>
De Passand	<a href="http://www.depassand.nl">www.depassand.nl</a>
De Spiekerbox	<a href="http://www.despiekerbox.nl">www.despiekerbox.nl</a>
Groepsaccommodatie De Vilt	<a href="http://www.groepsaccommodatiedevilt.nl">www.groepsaccommodatiedevilt.nl</a>
Handelsmaatschappij Hahebo	<a href="http://www.hahebo.nl">www.hahebo.nl</a>
Jumbo Walraven	<a href="http://www.jumbo.com">www.jumbo.com</a>
Martens Bouw	<a href="http://www.martensbouw.nl">www.martensbouw.nl</a>
Mobieltaria snackwagens	<a href="http://www.mobieltaria.nl">www.mobieltaria.nl</a>
Mola bladerdeegproducten	<a href="http://www.mola.nl">www.mola.nl</a>
Multicopy	<a href="http://www.multicopy.nl">www.multicopy.nl</a>
Sander Graat úw topSlijter	<a href="http://www.sandergraat.nl">www.sandergraat.nl</a>
Van Keijsteren	<a href="http://www.vankeijsteren.com">www.vankeijsteren.com</a>
Verheyen bloembollen	<a href="http://www.verheyen-bloembollen.nl">www.verheyen-bloembollen.nl</a>

---

## HARTELIJK DANK !

---

## Reglement

Lees de onderstaande punten aandachtig door voordat jullie beginnen met de Dorpsquiz. Bij onvoorziene omstandigheden waarin dit reglement niet voorziet, beslist de organisatie.

**Deelname aan de Dorpsquiz Beugen is (vanzelfsprekend) geheel op eigen risico.  
De organisatie erkent op geen enkele wijze aansprakelijkheid.  
Neem te allen tijde de verkeersregels en veiligheidseisen in acht.**

## Belangrijke uitleg

- **Algemeen:**
  - De **Quizavond** start op zaterdag 9 juni 2018 om 18:00 uur en het ingevulde quizboek dient op dezelfde dag vóór 23:00 uur ingeleverd te zijn. Zie ook “Strafpunten” verderop. Start- en inleverpunt: Café het Posthuis. Na 23:00 uur (na het inleveren van het quizboek) is iedereen welkom bij Café het Posthuis, waarbij tevens enkele antwoorden worden doorgenomen.
  - De **Finaleavond** wordt gehouden op vrijdag 22 juni 2018, aanvang 20:30 uur. Op deze avond gaan de hoogst geklasseerde teams (op basis van puntentotaal na Quizavond) de laatste strijd aan met elkaar om de eindstand te bepalen.
  - **Winnaar** van de Dorpsquiz Beugen is het team dat de hoogste score -na aftrek van eventuele strafpunten- behaalt. Hierin worden meegenomen de behaalde punten van de Quizavond plus Finaleavond. Het klassement wordt aflopend gerangschikt op het behaalde puntentotaal.
  - De **organisatie is bereikbaar** op de telefoonnummers:
    - 06-30185748 (Kay Boumans) of
    - 06-51006195 (Walter Kuijpers).
- **Whatsapp-groep:**
  - Alle teamcaptains worden toegevoegd aan een Whatsapp-groep.
  - De Whatsapp-groep kan door de organisatie worden gebruikt om te berichten over eventueel ontstane vragen of onduidelijkheden.
- **Inleveren quizboek:**
  - Het quizboek dient **zaterdag 9 juni 2018 vóór 23:00 uur** te zijn ingeleverd bij **Café het Posthuis (Kerkplein 1, Beugen)**, alwaar de organisatie ter plaatse is.
  - Let op dat de pagina's in het quizboek juist achter elkaar worden opgeborgen; dat wil zeggen oplopend in paginanummering.
  - De antwoorden worden op korte termijn na de Quizavond op de website geplaatst, zodat eenieder deze kan raadplegen.
- **Puntentelling:**
  - Elk goed antwoord levert punten op. Indien meerdere antwoorden gegeven worden, worden punten naar evenredigheid toegekend.
  - Zie paragraaf “Categorieën en puntenverdeling” verderop voor de verschillende categorieën en de te behalen punten per categorie.

- **Strafpunten:**
  - **Het quizboek dient op zaterdag 9 juni 2018 vóór 23:00 uur te zijn ingeleverd.**
    - ▶ **Te laat?** Er wordt 10 strafpunten voor elke minuut dat er te laat wordt ingeleverd, in mindering gebracht op de totale score.
    - ▶ **Paginavolgorde verkeerd?** Er wordt per fout 1 strafpunt in mindering gebracht op de totale score. NB: Juiste paginavolgorde: de paginanummers worden oplopend achter elkaar opgeborgen.
- **Overige bepalingen:**
  - Over de uitslag kan niet worden gecorrespondeerd. De uitslag is bindend.
  - Het volledige reglement is op de website te raadplegen. In gevallen waarin het reglement niet voorziet, beslist de organisatie.

## Do's and don'ts

- **Alle denkbare hulpmiddelen zijn toegestaan:** bijvoorbeeld het machtige medium internet, het bellen/appen met wie dan ook, het raadplegen van encyclopedieën, het gebruiken van rekenmachines, et cetera.
- **Niet toegestaan:** het gebruik van een auto, tractor of elk ander gemotoriseerd voertuig. Tegen beter weten in toch gebruiken en daarmee betrappt worden, leidt tot strafpunten: het aantal strafpunten bepaalt de organisatie.
- **Geen contact met andere teams:** tussen het afhalen het weer inleveren van het quizboek zal er tussen de deelnemende teams geen contact plaatsvinden.
- **Leesbare antwoorden:** de antwoorden op de vragen dienen te worden ingevuld in de gekleurde kaders in dit quizboek. Aan niet of slecht leesbare antwoorden worden geen punten toegekend.

## Categorieën en puntenverdeling

De Dorpsquiz Beugen bestaat uit de navolgende categorieën:

#	CATEGORIE	MAX. AANTAL PUNTEN
1.	Warming-up	100
2.	Beugen	100
3.	Sport	100
4.	Media	100
5.	Eten en Drinken	100
6.	Aardrijkskunde en Geografie	100
7.	Geschiedenis, Kunst en Cultuur	100
8.	Van Alles Wa	100
9.	Donateurs	100
10.	Geheime opdracht thuis	50
11.	Geheime opdracht bij het Posthuis	50
		<b>1000</b>



## Categorie 1: Warming-up

1. De eerste Dorpsquiz is georganiseerd door de Jongens van de Knakworst.

A.	Hoeveel organisatoren van de Dorpsquiz zijn geboren in Beugen?	2
B.	Wat is de gemiddelde leeftijd van de organisatoren, afgerond op hele jaren?	30

2. De eerste keer over ons mooie dorpje Beugen.

A.	Uit welk jaar stamt de oudste, schriftelijke vermelding over Beugen?	1294
B.	Hoe werd de dorpsnaam toentertijd gespeld?	Boghene





3. De eerste keer naar het songfestival!

A.	Wie gingen er met het nummer "De eerste keer" naar het songfestival?	Maxine en Franklin Brown
B.	Op welke plek eindigde dit nummer?	7e
C.	Wat zijn de echte namen van deze artiesten?	Gonny Buurmeester en Franklin Kroonenberg
D.	De B-kant van deze single; wat betrof dit?	Way back When / Engelstalige versie

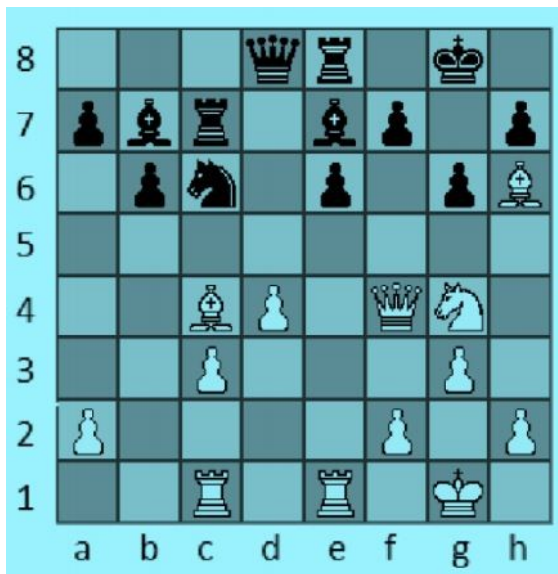
4. Noem 4 personen uit Brabant die in de Quote 500 van 2017 zijn vermeld.

Karel van Eerd / Ben Mandemakers / Leo van Gansewinkel / Erik van Loon / Joep de Jong / Ad Wintermans / Arnold de Haan / Eric Wilborts / Dirk Lips / Rob, Mark en Pieter Diks / Wim van de Laar / Frans Heesen / Marc Brouwers / Leo Linders / Harrie, Guus en Mark Schippers / Marc en Addy van Rooi / Tijs Verwest

5. Wat zijn de voornamen van de volgende bekende en/of beruchte Nederlanders?

			
Maik	Freek	Joran	Ariane

6. Wit is aan zet! Beschrijf hoe wit met twee zetten zwart schaakmat zet.



Wit: F4 – F7

Zwart: G8 – F7 of (G8 - H8)

Wit: C4 – E6 of (F7 – G7)

7. Trick or treat! Welke snoepsoorten zitten er in het snoepzakje wat jullie ontvingen?

Mentos Fruit	Napoleon	Griotten	Groentjes Menthol
--------------	----------	----------	-------------------

8. Uit welke landen of talen komen onderstaande woorden?

A.	The	Engels
B.	Primu	Corsicaans
*	Beugense	Nederland(s)
C.	Falu	Hongaars
D.	Frågesport	Zweeds

9. Voor alles is een eerste keer. Waar gaat onderstaande over?

A.	21 mei '10: € 0,001 * 17 okt '11: € 2,15 * 30 jul '12: € 10,03 * 8 apr '13: € 136,09 * 14 jul '14: € 624,48 * 5 sep '16: € 614,64 * 29 nov '17: € 9.070,02	
	Bitcoin	
B.	Welke pizzaketten had de primeur hierbij?	Papa John's
C.	Wat is de afkorting die bij vraag A hoort?	BTC

10. Weet jij nog de eerste keer dat je een floppy in de PC stopte? Open de inhoud van de diskette die jullie hebben ontvangen en geef de antwoorden op de vragen hieronder.

A.	1.44MB
B.	Floppy
C.	IBM

11. Helaas wordt Beugen ook weleens opgeschrikt door diefstal. In 2017 werd een bijzondere fiets gestolen.

A.	Van welk bedrijf was deze bijzondere fiets?	Bijzonder Fietsverhuur
B.	Waar werd deze fiets gestolen?	Hartje Groen in Schaijk
C.	Wat was de eerdere functie van het in de fiets gebruikte hout?	Wijnvat

12. C.V. De Vèrkeskôp viert binnenkort haar 55-jarig jubileum. Alaaf en alvast proficiat!

A.	Hoeveel prinsen (geen jeugd) droegen een bril tijdens het staatsieportret?	10
B.	Vroeger werd er jaarlijks een liedjesavond gehouden. Welke groep won er in 2007?	Culinair Gebler



13. Voetbal- of volleybalschoenen aantrekken en gaan! Wie herinnert zich het volgende?

A.	In welk jaar werd de Prinses Maria Koerier opgericht?	1963
B.	In dat jaar (zie vraag A) heette de volleybalclub nog geen Achilles; wat was wel de clubnaam?	V.P.M.
C.	In welk jaar is de naam veranderd in V.C. Achilles?	1972










14. Muziek, maestro! Wat weten jullie over het Beugense cultureel festival PodiumB?

A.	Welke -later prijswinnende- artiest was de allereerste act op PodiumB?	Stef Classens
B.	In welk jaar vond de allereerste editie van PodiumB plaats?	2011

15. Gebouwen krijgen vaak een eerste steen. Wat weten jullie van het navolgende?

			
A.	Welk gebouw betreft dit?	Onze Bouwsteen	Ballenhok Vios'38
B.	Wie legde de eerste steen?	Mevr. Jo Barten	Jan Roeffen

16. De volgende plaatjes zijn afkomstig van spellen. Herken je om welke spellen het gaat?

	<p><b>MOEDERDAG</b></p> <p><b>SUDOKU</b></p> <p><b>HOLLAND HEINEKEN HUIS</b></p> <p><b>TATUM DAGELET</b></p> <p><b>DE VESUVIUS</b></p>		
<p><b>Weerwolven en Waaghalzen</b></p>	<p><b>30 Seconds</b></p>	<p><b>Bezzerwizzer</b></p>	
			
<p><b>Carcassonne</b></p>	<p><b>De Slimste Mens ter Wereld</b></p>	<p><b>Ligretto</b></p>	<p><b>Phase 10</b></p>
			
<p><b>The Hobbit</b></p>	<p><b>Wie is de Ezel</b></p>	<p><b>Ticket to Ride</b></p>	











**17. Om welke personen of personages gaan onderstaande cryptische omschrijvingen?**

<p><b>A.</b></p>	<p>Dit personage speelt de meeste jaren in Nederlands meest bekende soapserie.</p>	<p><b>Laura Selmhorst / Jette van der Meij</b></p>
<p><b>B.</b></p>	<p>Deze persoon plantte een ledemaat op een winnares van de Voice.</p>	<p><b>Neil Armstrong</b></p>
<p><b>C.</b></p>	<p>Deze Officier in de Orde van Oranje-Nassau is gek op jack en gaat graag terug naar de kust.</p>	<p><b>Linda de Mol</b></p>



## Categorie 2: Beugen

1. Veel Beugenaren hadden er wel oren naar om mee te werken aan deze quiz. Welke persoon hoort eigenlijk bij deze oren? Noteer voor- en achternaam.

				
Naam	Janneke Peters Brukx	Imke Verdijk	Huub Heijnen	Thea Ardts-Ebbers
				
Naam	Eugene de Haas	Anton Robben	Paul Hendriks	Frans Berbers
				
Naam	Marieke Polman	Kim Wellen-Lamers		

2. Wij zijn als organisatie wel nieuwsgierig naar onze deelnemers. Maak een groepsfoto waar jullie gehele team op staat, en doe dat voor een typische Beugense achtergrond. De groepsfoto dienen jullie te plaatsen op een eigen Twitter-account, met in het Twitter-bericht een vermelding @DorpsquizBeugen, in het bericht je teamnaam en met hashtag #DQB18. E-mail deze foto ook naar dorpsquizbeugen@gmail.com met vermelding van de teamnaam. Je krijgt een cijfercode per e-mail terug. Vul deze in.

Cijfercode

3. Beugen heeft er 20 van, waarvan Beugen er 7 rijk is van het ene en 13 van het andere. De meesten ervan zijn terug te vinden in de Dorpsstraat. Waar hebben we het over?

Monumenten

4. In 1944 verwoestte het oorlogsgeweld de kerk en het orgel. Tot en met 1964 werd een zgn. "Harmonium" gebruikt, maar wie bouwde het orgel dat sindsdien is gebruikt?

Verschueren

5. Iedereen kent ongetwijfeld wel het "Gildekapel" aan de kruising van de Brouwersstraat en de Heiveldsestraat.

A.	Op welke datum werd de kapel geopend?	18 mei 1984
B.	Naar welke Sint is de kapel genoemd?	Sint-Antonius
C.	Door wie werd de kapel geopend?	Baron de Weichs de Wenne
D.	In Beugen is nog een andere kapel te vinden. Hoe heet deze andere kapel?	Kerkhofkapel

6. Kijk naar de volgende getallen:

1793 \* 1764 \* 1733 \* 1747 \* 1735 \* 1718 \* 1762 \* 1793 \* 1850

Waarop hebben deze getallen betrekking?

Inwonersaantallen

7. Een kleine eeuw geleden was er nog een bierbrouwerij in Beugen.

A.	Hoe heette deze brouwerij?	De Lelie
B.	Door wie werd deze brouwerij gerund?	Huibers / Barten
C.	Op welk adres stond deze brouwerij?	Dorpsstraat 5
D.	Wie woont er nu op dit adres?	Fam. Graat

8. De gemeenteraadsverkiezingen 2018 zijn alweer enkele maanden achter de rug.

A.	Op hoeveel Beugenaren kon er gestemd worden?	17
B.	Welke Beugenaar stond het laagst geplaatst op de partijlijst?	Cor Bonants
C.	Hoeveel stemmen werden er in totaal uitgebracht op alle in Beugen woonachtige kandidaten?	796
D.	Hoeveel geldige stemmen zijn er uitgebracht in MFC 't Kruispunt?	941 / 949

9. Beugen heeft drie bushaltes. Welke (2) gegevens ontbreken op onderstaand bord?



255

Station

10. Een postbode zal deze mooie gleuven ongetwijfeld herkennen.  
Noteer het adres (straatnaam en huisnummer) van de volgende brievenbussen.

			
Adres	Boxmeerseweg 5	Brouwersstraat 34	Heveldsestraat 1b
			
Adres	Brouwersstraat 2	Dorpsstraat 12	Schuttersstraat 4
			
Adres	Gildestraat 24	Kerkplein 3	Hagelkruisstraat 2
			
Adres	Oeffeltseweg 7		

11. Veel bedrijven hebben zich de afgelopen jaren gevestigd in Beugen. Welke bedrijven horen er op de twee lege plekken te staan?



<p>Spoeisende Hulp</p> <p>Pantein Plaza</p>
---

12. Pak een fiets en zoek naar de 5 antwoorden! De fietsroute begint op de plaats met de volgende coördinaten: B 51,6731 \* L 5,9461. Ga op zoek naar de antwoorden!


A.	Antwoord nummer 1:	Steenbok
	Vanuit hier fiets je terug naar Beugen. Hiervoor steek je één weg over en bij het eerstvolgende kruispunt sla je rechtsaf. Vlak nadat je rechtsaf bent gegaan, kun je wandelinformatie rondom Beugen vinden.	
B.	Antwoord nummer 2:	Waterman
	Vervolg je weg richting museum Alle Tijden en eenmaal buiten de dorpskern neem je de eerste afslag richting de Vilt. Onderweg kom je een dier tegen wat deze buurt inmiddels heeft verlaten.	
C.	Antwoord nummer 3:	Kreeft
	Volg route 14 richting de Heiveldsestraat, verlaat het zandpad en ga linksaf. Fiets richting het kleurrijkste bedrijf van Beugen. Hier vind je schimmelachtige met afstanden.	
D.	Antwoord nummer 4:	Stier (Niet aanwezig)
	Vervolg je weg richting het centrum van Beugen. Ga rechtsaf waar de jeugd aan haar toekomst werkt. Volg de Moerkamp tot je bij het eerste speeltuintje (aan je rechterhand) uitkomt. Ga hier van de glijbaan af en zoek het laatste antwoord.	
E.	Antwoord nummer 5:	Leeuw
	Nu snel terugfietsen naar jullie teamadres en verder met de rest van de quiz! 😊	

13. In Beugen heeft de jeugd alle mogelijkheid om te spelen. Onderstaande vragen gaan over alle Beugense, openbare speelpleintjes maar exclusief sportpark of basisschool.

A.	Hoeveel schommels hangen er op alle Beugense pleintjes?	7
B.	Hoeveel glijbanen staan er op alle Beugense pleintjes?	4



14. Ook wij hebben even de beentjes gestrekt. Onderstaande *hotspots* kwamen wij in Beugen tegen. Kunnen jullie de plaatsen aanwijzen waar wij onderstaande foto's hebben gemaakt? Zet een punt bij de plaats waar de foto is genomen en schrijf de corresponderende letter erbij.

<p>A.</p>		<p>B.</p>	
<p>C.</p>			
<p>D.</p>			
<p>E.</p>			

## Categorie 3: Sport

1. Geef de namen van deze stadions en geef aan welke sport hier wordt gespeeld.

		
Naam	Melbourne Cricket Ground	Arrowhead Stadium
Sport	Cricket	NFL
		
Naam	AT&T Park	City Ground
Sport	Honkbal	Voetbal

2. Bij welke sport is het speelveld exact 61 x 32 meter?

Kaatsen

3. Zte ed tetrels ni ed sjuite grolvode ne nortee de maan vna ene pot ...

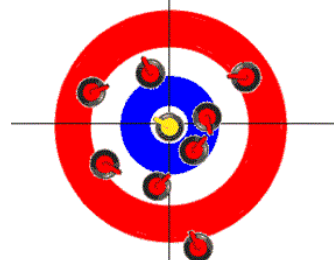
A.	tennisser	lir vkaivoco	Ivo Karlovic
B.	voetballer	dikyn be veruen	Kevin de Bruyne
C.	zwemmer	oesre cacil	Cesar Cielo
D.	schaatser	piaseci lehcutdan	Claudia Pechstein



## 4. Over onze sportverenigingen in Beugen!

A.	Wie was er in 2016 gastspreker op de jaarlijkse Club van 50 avond van VIOS'38?	Aad de Mos
B.	Op welke datum is tennisvereniging De Geer opgericht?	29-09-1975
C.	Welk team won in 2016 het Bart Polman springtoernooi?	Hahebo
D.	Hoe luidt -sinds mei 2018- de kersverse teamnaam van Beugense darters?	DV 't Posthuis

## 5. Wat is de score van onderstaande wedstrijd?

A.		<p>Score team "Geel": 1</p> <p>Score team "Rood": 0</p>
----	---	---

## 6. Welke voormalige topsporters zijn hieronder te zien? (wellicht enigszins gefotoshopt)

		
Naam	Ben Johnson	Fanny Blankers-Koen
		
Naam	Goran Ivanisevic	Manuel dos Santos "Garrincha"

7. Welke Beugense volleybalster speelde het afgelopen seizoen eredivisievolleybal en voor welke volleyclub kwam ze daarbij uit?

Joska Fransen / Flynth Fast



8. Noem 4 nieuwe olympische sporten die tijdens de OS 2020 op het programma staan.

Karate / klmsport / Skateboarden / Surfen / Honkbal

9. Welke topsporters horen er bij onderstaande carrières?

A.	1989-1994: SV Dynamo 1994-2000: Pallavolo Modena 2000-2002: Sisley 2002-2005: SV Dynamo	Bas van de Goor
B.	1999-2007: FC Barcelona 2007-2008: Atletico Madrid 2008-2009: Genoa FC 2009-2011: Internazionale 2012-2018: Paris Saint-Germain	Thiago Motta
C.	2000-2004: Bourgoin 2004-2009: Sale 2009-2012: Racing Métro 2012-2014: Lyon	Sébastien Chabal

10. Bij welke sporten worden onderstaande attributen gebruikt?

		
Sport	Onderwater Hockey	Hardlopen

11. Welke sporters zie je terug in onderstaande knipsels? (4 sporters per knipsel)

		
Sporter 1	Bas Dost	Anouk Hoogendijk
Sporter 2	Kjeld Nuis	Ellen Hoog
Sporter 3	Robin Haase	Kiki Bertens
Sporter 4	Sjinkie Knegt	Lieke Martens

12. Deze plaatjes vormen een voor- en achternaam. Naar welke sporters zijn wij op zoek?

A.	
Sporter	Daan van Haarlem
B.	
Sporter	Floris Wortelboer

13. Hieronder volgen 6 logo's van sportclubs in verschillende orde van grootte. Noteer de sport waarin de betreffende club bedreven is.

		
Sport	Volleybal	Hockey
		
Sport	Ijshockey	Basketbal
		
Sport	Honkbal	American Football






14. Voor welke sport staan de navolgende pictogrammen symbool?

		
Sport	Handbal	Gewichtheffen
		
Sport	Moderne Vijfkamp	Hippisch Dressuur
		
Sport	Judo	Paralympische Triatlon



## Categorie 4: Media

1. De Amerikaanse, meest bekende satirische animatieserie is speciaal naar Beugen gekomen. Het "South Park"-jasje is over verschillende Beugenaren gegoten. Herken jij de bekende Beugenaren in hun getekende versies? Let op: attributen en/of achtergrond kunnen waardevolle hints bevatten!

		
Naam	André Peters	Marcel Raafs
		
Naam	Jesper Fransen / Daan Greven	Toon Philips
		
Namen	Jelle Boumans	Manon Gerrits

2. Iedereen is wel bekend met Disney-films. Maar hoe gaat ken je ze nu écht? Hier volgen 10 stellingen met de vraag of dit onjuist ("Disney") of juist is ("Diswel"). Omcirkel het juiste antwoord achter deze stellingen! (de filmtitels zijn vermeld)

A.	Peter Pan	Kapitein Haak heeft een haak aan zijn rechterhand	✘ Disney Diswel ✓
B.	De Kleine Zeemeermin	De kleine zeemeermin is pas 16 jaar oud.	✘ Disney Diswel ✓
C.	Tarzan	De achternaam van Jane is Williams.	✘ Disney Diswel ✓
D.	Sneeuwitje	Grumpie zingt als enige dwerg niet mee met "Hey ho"	✘ Disney Diswel ✓
E.	Donald Duck	Deze Disney-animatie won een Oscar.	✘ Disney Diswel ✓
F.	Assepoester	Assepoester verliest het glazen muiltje aan haar rechtervoet.	✘ Disney Diswel ✓
G.	Frozen	De productie van de film Frozen duurde maar liefst 10 jaar.	✘ Disney Diswel ✓
H.	Aladdin	De geest Aladdin zat 10.000 jaar gevangen in zijn lamp.	✘ Disney Diswel ✓
I.	The Lion King	Rafiki is een beerbaviaan.	✘ Disney Diswel ✓
J.	-	In 1971 werd Disney World door Walt Disney geopend.	✘ Disney Diswel ✓





3. Op het cassettebandje wat jullie ontvingen, staan 10 fragmenten van bekende *sitcoms*. Noteer hieronder uit welke *sitcom* het betreffende fragment afkomstig is.

1.	Two and a half men	6.	Het zonnetje in huis
2.	Kees & Co	7.	Friends
3.	How i met your mother	8.	Fawlty Towers
4.	Keeping up appearances	9.	Marries with Children
5.	According to Jim	10.	Big Bang Theory

4. Hieronder staan 5 scènes uit bekende filmklassiekers afgebeeld. Geef voor elke afbeelding aan om welke filmklassieker het gaat.





		
Film	Casablanca	Gone with the wind
		
Film	Psycho	The Wizard of Oz
		
Film	King Kong	

5. Welke games worden hieronder gespeeld. Noteer het antwoord onder de afbeelding.

		
Game	Need for Speed Most Wanted	GTA V
		
Game	Prince of Persia	Fifa Street
		
Game	Harry Potter	GTA San Andreas
		
Game	Zoo Tycoon	The Sims

		
Game	Call of Duty WW2	Assassin's Creed 2

6. Welke filmkarakters zijn hieronder te zien en in welke film komen ze voor?

		
Karakter	De Man	Timmie
Film	Quiz	Dombo
		
Karakter	Rey	Professor Krinkel
Film	Star Wars (Last Jedi)	Harry Potter (Steen der Wijzen)



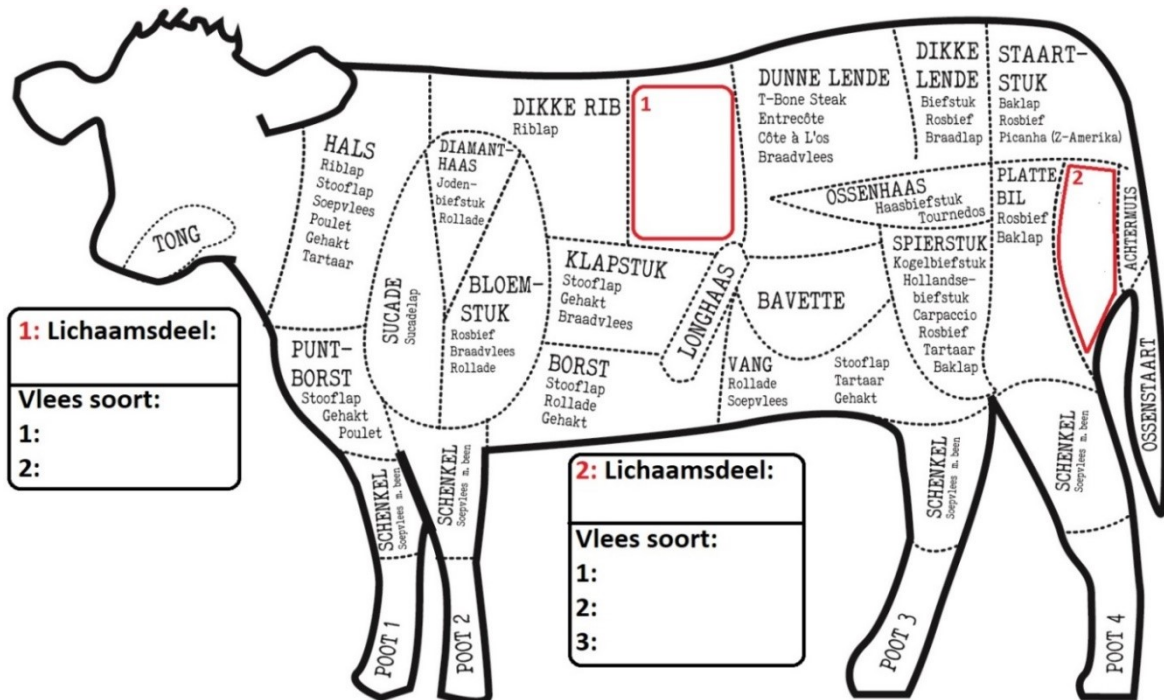
		
Karakter	Alfred Heineken	John Coffey
Film	De Heineken Ontvoering	The Green Mile
		
Karakter	Jack Dawson	John Patrick Mason
Film	Titanic	The Rock
		
Karakter	Anastasia "Ana" Steele	Oaken
Film	Fifty Shades of Grey	Frozen

## Categorie 5: Eten en Drinken

1. De volgende iconen hebben een gemeenschappelijke deler, maar waarvoor staan deze iconen afzonderlijk symbool?

		
Gluten	Schaaldieren	Ei
		
Vis	Pinda	Soja
		
Lupine	Lactose	Noten
		
Selderij	Mosterd	Sesam
		Wat is de gemeenschappelijke deler van deze iconen? Waarvoor staan zij symbool?
Sulfiet	Weekdieren	Allergenen Kaart

2. Hoe heten de lichaamsdelen bij de rode cirkels (1 + 2) en noteer daarbij welke soorten vlees hiermee worden gemaakt?



1.	Lichaamsdeel 1:	Fijne Rib
	Soort vlees I:	Rib-Eye
	Soort vlees II:	Cote de Bouef
2.	Lichaamsdeel 2:	Bovenbil
	Soort vlees I:	Biefstuk
	Soort vlees II:	Rollade
	Soort vlees III:	Baklap

3. Het is woensdag en je besluit om wat boodschappen bij het Beugens Bakhuis te doen. Wat moet je betalen wanneer je het volgende afrekent:

- \* 5x worstenbroodjes D'n Bekker
- \* 3x kersenflappen
- \* 1x waterfiets mayonaise
- \* 1x knakworst
- \* 1x gehaktstaaf





A.	Wat moet je betalen bij het Beugens Bakhuis?	18,40€
----	--	--------

Je hebt eigenlijk nog veel honger en je besluit door te fietsen naar Cafeteria Franny. Hier bestel je:

- \* 1x frikandel speciaal
- \* 1x kroket
- \* 1x frietje met
- \* 1x cola (blikje)

B.	Wat moet je betalen bij Cafeteria Franny?	7€
----	---	----

4. Hieronder worden 4 dranken getoond. Noteer het merk en de dranksoort bij elke afbeelding.

		
Merk	Deugnet	Jp. Chenet
Dranksoort	Bier	Rode Wijn
		
Merk	Smit & Dorlas	Glenfiddich
Dranksoort	Koffie	Rum

5. De eerste editie Dorpsquiz...dat is een traktatie waard! Heel Beugen bakt, of nou ja, dat is nou een tikkeltje overdreven! Zorg ervoor dat er (voordat het quizboek ingeleverd wordt) aan de organisatie worden overhandigd:

minimaal 15 hapklare hapjes

Je ontvangt dan van de organisatie een lotnummer wat je hieronder kunt invullen.









NB: Deze hapjes worden bij het naborrelen na de Quizavond, geserveerd.

A.	Lotnummer van de ingeleverde hapjes	"Lotnummer"
----	-------------------------------------	-------------

## 6. Varia vragen over eten en drinken!




A.	Wiens naam komt voor in het gezegde “weten waar ... de mosterd haalt”?	Abraham
B.	Een zeer goed restaurant wordt bekroond met Michelin-sterren. Wat is hierin de hoogste onderscheiding?	3 sterren
C.	Welke cocktail bestaat uit de volgende ingrediënten? wodka   cranberry sap   limoensap   Cointreau	Cosmopolitan
D.	Bij welke keukenbenodigdheden hoort onderstaande maatvoering? 1/1, 2/1, 1/2 1/6, etc.	Gastronormbakken
E.	Bekend van PodiumB! Vul de tekst aan: “Plakje ham, plakje kaas, ..... is de tostibaas!”	Shaggy

## 7. Deze rijen plaatjes weergeven elk een begrip. Waarnaar zijn wij op zoek?

A.			
Drankmerk	Coca Cola		
B.			
Drankmerk	Johny Walker		
C.			
Maaltijd	Ceasar Salad		



8. Burgers van Beugen opgelet! Hieronder staan 3 *burgers* van fastfoodketens. Noteer de naam van de burger en de fastfoodketen waar de burger te verkrijgen is.

A.		Naam burger:	Big Tasty
		Fastfoodketen:	MC Donalds
B.		Naam burger:	X-tra Long Chili Chicken
		Fastfoodketen:	Burger King
C.		Naam burger:	Tower Burger
		Fastfoodketen:	KFC

9. Zte ed tetrels ni ed sjuite grolvode ne nortee de maan vna ene ...

A.	theemerk	niwtsgin	Twinnings
B.	wijndruif	danyorcnaH	Chardonnay
C.	fruitmerk	tauqich	Chiquita
D.	biermerk	lalwemest	West Malle

10. Hieronder worden twee etenswaren getoond. De eerste afbeelding gaat over een lekkernij en de tweede afbeelding laat een fruit/vrucht zien. Wat is dit?

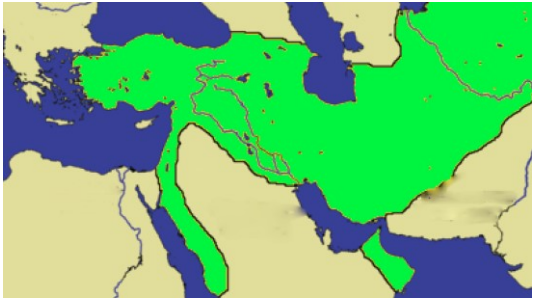
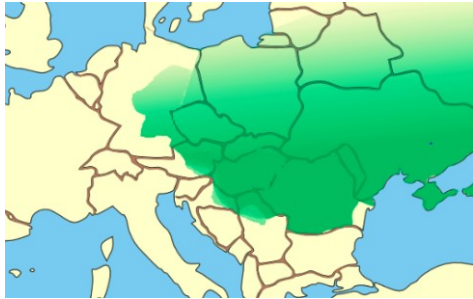



		
Antwoord	Kaviaar	Salak Bali

11. Fijnproevers gezocht! Sommige etenswaren worden niet gegeten. Kun jij aangeven of de navolgende "personen" iets wel of niet eten? Vul per rij in "WEL" of "NIET".

	Vlees	Vis	Gevogelte	Ei	Zuivel
Veganist	Niet	Niet	Niet	Niet	Niet
Laco-vegetariër	Niet	Niet	Niet	Niet	Wel
Ovo-vegetariër	Niet	Niet	Niet	Wel	Niet
Ovo-lacto-vegetariër	Niet	Niet	Niet	Wel	Wel
Pollotariër	Niet	Niet	Wel	Wel	Wel
Pescotariër	Niet	Wel	Niet	Wel	Wel
Pesco-pollotariër	Niet	Wel	Wel	Wel	Wel

## Categorie 6: Aardrijkskunde en Geografie

1. Welke voormalige wereldrijken staan hieronder afgebeeld?

		
Rijk	Perzisch Rijk	Hunnerijk
		
Rijk	Romeins Rijk	Tibetaans Rijk
		
Rijk	Mongools Rijk	

2. Deze stad is vooral bekend geworden van een bepaalde zin, nadat er een ramp met een spaceshuttle zich voltrokken had. Welke stad bedoelen wij?

Houston

3. Onderstaande vlaggen representeren een zestal landen.  
Welke landen horen er bij deze vlaggen?

		
Land	Kaaimaneilanden	Cambodja
		
Land	Guatamala	Kyrgyzstan
		
Land	Turkmenistan	Pakistan

4. Welke bekende handelsroute is dit?



Handelsroute Australische Compagnie

5. Zacharius wil een wereldreis gaan maken, maar stelt voor zichzelf wel een aantal regels op waar hij zich aan moet houden. Deze regels zijn als volgt:
- \* Zacharius mag niet over zee reizen om in een ander land te komen (bijvoorbeeld niet van Nederland naar Groot-Brittannië)
  - \* Zacharius mag wel over zee blijven zo lang hij in hetzelfde land blijft (bijvoorbeeld van Spanje naar het eiland Mallorca)
  - \* Een land telt pas als land wanneer deze officieel erkend is (bijvoorbeeld Catalonië dus niet).
  - \* Zacharius begint zijn reis in Beugen.

A.	Wat is het kleinste Europese land waar Zacharius hoe dan ook niet kan komen?	Malta
B.	Om in Rusland te komen, hoeveel grenzen passeert Zacharius dan minimaal?	3
C.	Zacharius is op een bepaald punt in Europa. Vanaf dat punt hoeft Zacharius slechts 3 km te reizen om in drie verschillende landen én tijdzones te zijn geweest. Noem de drie landen waarbij dit het geval is.	Noorwegen
		Finland
		Rusland

6. Soms zijn er spontane verbanden tussen landen, die het land op de vraagtekens kan doen raden. Naar welk land zijn wij op zoek?

A.	Indonesië - Polen Sierra Leone - Oezbekistan Denemarken - ???	Engeland
B.	Angola - Portugal Zimbabwe - Groot-Brittannië Rwanda - ??? of ???	België / Duitsland
C.	Duitsland - Engeland Frankrijk - Japan-Brittannië Nederland - ???	Ivoorkust

7. Link de bezienswaardigheden aan de steden waar ze te zien zijn.  
Noteer de juiste combinaties in de laatste kolom (letters met nummers).

A.	Spaanse Trappen	1.	Wenen	A - 3
B.	Checkpoint Charlie	2.	Barcelona	B - 4
C.	Bunkers del Carmel	3.	Rome	C - 2
D.	Santa Monica	4.	Berlijn	D - 5
E.	Slot Belvedere	5.	Los Angeles	E - 1

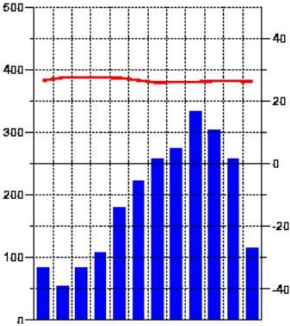
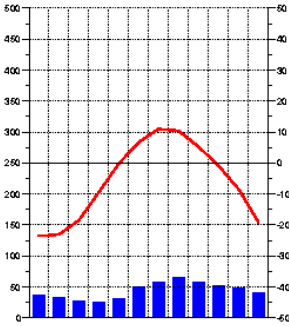
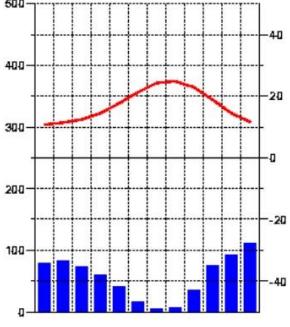
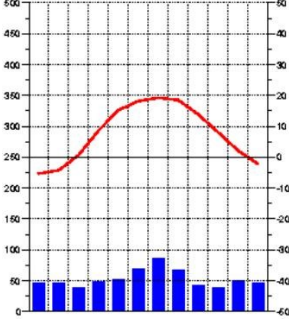
8. Soms zijn er spontane verbanden tussen landen, die het land op de vraagtekens kan doen raden. Naar welk land zijn wij op zoek?

A.	Los onderstaande woordzoeker op, dat wil zeggen: streep alle straatnamen door in onderstaande woordzoeker.	
B.	In welke straat vind je het hoogst huisnummer van Beugen?	Moerkamp (73)

P	S	B	R	O	U	W	E	R	S	S	T	R	A	A	T	T	O
P	Q	H	O	J	X	H	Z	S	T	N	O	I	M	K	B	L	S
W	Y	J	E	B	Q	P	A	M	B	O	V	K	I	M	I	C	H
T	D	J	M	I	Q	L	A	N	B	V	E	C	O	W	H	E	O
P	A	U	E	W	V	A	D	J	E	R	M	L	F	U	Y	X	R
E	H	A	S	R	S	E	G	K	K	N	E	F	T	M	Y	R	L
P	B	N	R	K	U	P	L	E	L	N	K	T	Q	L	N	D	O
E	G	O	A	T	R	T	N	D	S	A	E	A	C	D	O	C	G
R	Z	M	X	U	S	V	D	T	S	R	V	S	M	R	C	E	E
K	P	P	C	M	E	G	R	N	S	E	T	E	P	P	B	V	K
O	H	R	M	L	E	A	O	S	A	A	S	S	R	J	H	E	A
E	G	J	D	A	A	E	T	O	R	L	S	T	K	K	H	V	M
C	I	W	Z	T	K	R	R	T	B	T	M	W	R	V	A	R	P
K	F	U	Z	A	A	R	W	S	R	S	L	O	E	A	K	M	X
P	I	F	V	A	E	I	E	A	E	T	I	E	R	D	A	W	P
A	G	U	T	L	J	E	A	O	E	W	E	U	C	K	S	T	D
D	E	S	G	K	A	T	L	E	M	O	E	B	R	S	X	B	V
M	G	I	L	D	E	S	T	R	A	A	T	G	M	K	G	N	Y

- BOXMEERSEWEG
- GILDESTRAAT
- HORLOGEKAMP
- KROMLANDT
- MOERKAMP
- SCHUTTERSSTRAAT
- BROUWERSSTRAAT
- HANENKAMP
- KERKENVELD
- KRUISBOOGSTRAAT
- MOLENSTRAAT
- STARTWIJK
- DORPSSTRAAT
- HEIVELDSESTRAAT
- KLAVERKAMP
- MAASKAMP
- PEPERKOECKPAD

## 9. Over het klimaat gesproken. Welke klimaten horen er bij de volgende grafieken?







		
Klimaat	Tropisch	Toendra
		
Klimaat	Middellands-Zee	Land

## 10. Water is de kern van ons leven op aarde. Wat weten jullie van water?

A.	Hoe heet het natuurverschijnsel waarbij het zeewater in de Stille Oceaan zich opwarmt?	El Nino
B.	Water kent verschillende vormen: vast, vloeibaar en als gas. Noteert het werkwoord waarmee de ene vorm wijzigt in de andere vorm.	
	Gas ► Vloeibaar	Condenseren
	Gas ► Vast	Rijpen
	Vloeibaar ► Gas	Verdampen
	Vloeibaar ► Vast	Stollen
	Vast ► Gas	Sublimeren
	Vast ► Vloeibaar	Smelten
C.	Omcirkel het juiste antwoord op de vraag of de stellingen juist of onjuist zijn.	
	97% van het water op de aarde is zout en van het zoete water is slechts 0,3% direct waarneembaar voor de mens.	<input checked="" type="checkbox"/> <b>JUIST</b> <input type="checkbox"/> <b>ONJUIST</b>
	Als al het water op onze aarde verdampt, Als al het water op onze aarde verdampt, tegelijk weer naar beneden zou komen en zich zou gelijk zou verspreiden om de aarde is de dikte van dit membraam om en nabij 10cm.	<input type="checkbox"/> <b>JUIST</b> <input checked="" type="checkbox"/> <b>ONJUIST</b>



11. Ons mooie Nederland is rijk aan flora en fauna. Kunnen jullie ontrafelen welke planten hieronder zijn afgebeeld?

		
Plant	Hondsdrif	Arondkelk
		
Plant	Aardappel	Knopig Helmkruid
		
Plant	Oranje Havikskruid	Zonnebloem

12. In 1800 bewoonden 978 miljoen mensen onze planeet. Op dit moment groeien we naar de 8 miljard mensen op moeder Aarde. Sorteert de volgende landen op bevolking, waarbij het land met de meeste bevolking nummer 1 krijgt en het land met de minste bevolking nummer 5 krijgt.

A.	Sri Lanka	2
B.	Singapore	5
C.	Nederland	4
D.	Ethiopië	1
E.	Burkina Faso	3



13. Oei! Onze Zacharius (je weet wel, die van vraag 5) is verdwaald! Aan de aan hemzelf opgelegde regels heeft Zacharius niet gedacht, en nu hij heeft geen enkel idee waar hij is beland! Wel ziet Zacharius enkele richting aangevers met afstanden. Kunnen jullie aangeven in welke hoofdstad Zacharius staat?



Kiev

14. Eindelijk een meerkeuze. Het heelal bestaat uit vele stelsels en planeten.  
Wat is de zon? Kies uit deze antwoorden:

A) Dwerfster B) Reuzenster C) Superreus D) Een maan

A

## Categorie 7: Geschiedenis, Kunst en Cultuur

1. Tijd om het stof van de geschiedenisboeken af te blazen. Beantwoord deze vragen.

A.	Het gezegde “zijn Waterloo vinden” wordt vaak in de sport gebruikt. Wie verloor eigenlijk deze strijd en vond dus zijn Waterloo?	Napoleon Bonaparte (Frankrijk)
B.	Op 1 januari van welk jaar werd onze vorige munteenheid vervangen door de euro.	2002
C.	Prins Willem van Oranje werd vermoord in 1584. Wie vuurde het noodlottige schot op de prins af?	Balthasar Gerards
D.	In welk jaar werd het Wilhelmus het officiële volkslied van Nederland?	1932
E.	Er wordt wel eens gesproken over “Het paard van Troje”. In welk land bevindt zich Troje?	Turkije

2. Geschiedenis in en rond ons mooie dorp Beugen.









A.	Met welk kerkdorp vormde Beugen vroeger een gemeente?	Rijkevoort
B.	Welk restaurant behoorde vanaf 1981-1982 niet meer tot Brabant, maar tot Limburg?	Mazenburg
C.	Beugen had lange tijd twee molens in gebruik. Eén molen is in 1955 afgebroken. Hoe werd deze molen genoemd?	De Heidebloem
D.	Welke beek stroomt er al jarenlang tussen de (Grote) Vilt en de Kleine Vilt door?	Oeffeltse Raam
E.	Onder welke naam werd VIOS'38 opgericht?	Tubantia


3. Beugen kwam dit decennium bij het NOS-journaal. In welk jaar werd onderstaand beeld opgenomen?

2016



4. *Vruuger*, toen werd er in Beugen al volop gefilmd en gefotografeerd. Wie of wat herken jij op onderstaande foto's. Omschrijf zo volledig mogelijk.

		
Wie	Door Meulenstein	Dries/Annie vd Bosch
		
Wat	Gildehuis Reintjes	Café Groothusen
		
Wie	Jan Stortelder	Leraar Slieger
		
Wie	Marius van Tits	Niek van Ooijen

		
Wie	Pastoor Verhoeven	vd Brink

## 5. Cultuur in de meest algemene vorm.




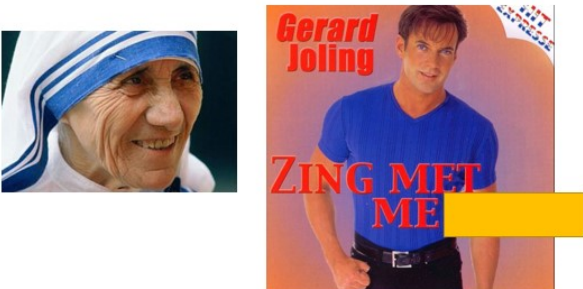
A.	Welk werelderfgoed staat er op de UNESCO-lijst met volgnummer 1?	Galapagos Eilanden
B.	Welk Nederlands poppodium is een verwijzing naar het netnummer voor telefoongesprekken van de stad?	013 / Tilburg
C.	In welke stad wordt jaarlijks de TEFAF georganiseerd?	Maastricht
D.	Door wie is Pinkpop in 1970 opgericht?	Jan Smeets
E.	Bij welk kaartspel zit je met 4 "tieten" op rozen?	Toepen



## 6. Over cultuur in Beugen gesproken.

A.	Wat is de naam van het Beugense kunstwerk, dat dichtbij de oud papier-container staat?	Vensterbank
B.	Wat was de naam van het café dat naast discotheek First Choice was gelegen?	Café 't Fust
C.	Wie werd er Koning van het Gilde in de jaren 2001 en 2016?	Marcel Raafs
D.	Op welke dag organiseert het Gilde jaarlijkse het Koningschieten?	2 <sup>e</sup> Pinksterdag
E.	Welke band is op zaterdagavond tijdens de Beugense kermis 2018 ingeroosterd?	Sesam Sensation
F.	De letter B in het logo van PodiumB kenmerkt zich door een bepaalde kleur. Welke kleur?	Roze













7. De afbeeldingen staan symbool voor bekendheden of bezienswaardigheden van de hele wereld. Kunnen jullie uitpluizen wat de antwoorden zijn?

A.	
TV-personage	Johnny Flodder
B.	
Wereldleider	Teddy Roosevelt
C.	
Wereldleider	Kim Jong-Un
D.	
Regeringsleider	Theresa May



E.	
Astronoom	Chriet Titulaer
F.	
Constructie	Delta Werken

8. In Nederland kennen we verschillende bekende plekken. Noteer de plaatsnaam van de locatie waarop deze bezienswaardigheden terug te vinden zijn.  
Een tip: Madurodam of Den Haag rekenen we niet goed!

		
Plaats	Den Bosch	Amsterdam
		
Plaats	Alkmaar	Breukelen

		
Plaats	Utrecht	Groningen
		
Plaats	Scheveningen	Hoenderlo
		
Plaats	Kaatsheuvel	Den Haag

9. "Wie lust er nog eentje". Met andere woorden, waar kun of kon je deze munten gebruiken?

		
Munt voor	Jeugdhuis	Boxmeer




## Categorie 8: Van Alles Wa

1. Bij de Dorpsquiz is het belangrijk dat alles op tijd wordt ingeleverd. Tussen januari en maart 2018 liepen veel digitale klokjes plotseling 5 minuten achter. Hoe kwam dit?

Energietekort / Conflict etc.

2. Beroemd en bekend zijn vaak de leiders van een land, zoals onze Willem Alexander en Maxima. Welke koningen zoeken we? Noteer de naam en het land waar hij koning is.


	Naam	Land
		
Koning 1	Henk de Koning	-
Koning 2	Koning Philip	België
Koning 3	Koning Carl Gustav	Zweden
Koning 4	Koning Felipe	Spanje
Koning 5	Koning Willem Alexander	Nederland
Koning 6	Salman bin Abdoel Aziz	Saoedi-Arabië

3. Geertrude en Michael liggen dood op de vloer van de slaapkamer. Het raam is geopend, de glasscherven liggen op de grond, er ligt een bal in de kamer en er ligt een plas water. Hoe verklaren jullie dat?

Het zijn Goudvissen



4. We kijken allemaal TV, toch? Welke zes presentatrices herken je in deze afbeelding?

	Welke presentatrices herken je hierin?
	Chantal Jansen
	Eva Jinek
	Floortje Dessing
	Yvon Jaspers
	Linda de Mol
Geraldine Kemper	

5. Ieder zijn eigen kwaliteiten en ieder dus ook zijn eigen vakgebied. Hieronder staan allerlei beroepen cryptisch omschreven óf zijn letters door elkaar geschud.

A.	Van beide zijden hetzelfde beroep	Kok / Reder
B.	In dit beroep wordt je steeds minder	Slijter
C.	Ader Net Ris	Dierenarts
D.	Niet Goet Lipa	Politieagent
E.	Dit is geen rustig beroep	Drukker
F.	Hij bewatert geen planten maar metaal	Loodgieter
G.	Tasse Cere Ser	Secretaresse
H.	Deze druivenspecialist is nooit eerlijk	Vinoloog
I.	In dit beroep is geduld het belangrijkste	Wachter/ Wachtmeester

6. De steek van Prins Pascal is bij het Posthuis op het dak gewaaid. Pascal heeft na lang zoeken een ladder gepakt uit de opgeruimde schuur van André en klimt tot halverwege de ladder. Vanaf hier gaat hij 5 treden omhoog alvorens hij last van hoogtevrees krijgt en snel 6 treden naar beneden klimt. Hij verzamelt al zijn moed en klimt 8 treden naar boven. Na een korte pauze -om even bij te komen- klimt hij de laatste 4 treden omhoog. Hoeveel treden heeft de ladder?

22 / 23

7. In MFC het Kruispunt heeft Cor Verbroekken een sleutelbos met 9 sleutels voor 9 verschillende deuren. Hij is alleen vergeten welke sleutel bij welke deur hoort. Hoeveel pogingen zijn er maximaal nodig om de deuren sowieso allemaal geopend te krijgen?

45

8. De Beugense kermis is hartstikke gezellig natuurlijk, en de meesten drinken ter plaatse een biertje. André Peters is erg benieuwd naar hoeveel Weizen-bier er gedronken is. Voor aanvang van het spektakel, toen het fust nog onaangebroken was, woog het fust 250 kg. André heeft gezien dat de helft van het fust leeg is (de andere helft dus vol), en het fust weegt nu 130 kg. Hoeveel kilogram weegt het vat zonder bierinhoud?

10 Kg

9. Facebook, Whatsapp, Skype zijn mediavormen van deze tijd. Maar 10 jaar geleden zaten we nog helemaal in het sms-tijdperk. Welke Disney-figuren zijn ge-sms't?

A.	2-7-7-3-7-6-3-7-8-3-7	Assepoester
B.	2-2-6-2-4	Bambi
C.	5-2-7-4-8-3-4-6-0-4-2-2-5	Kapitein Haak
D.	8-4-6-6-4-3-0-6-2-4-1	Timmie Muis
E.	9-4-6-6-4-3-0-3-3-0-7-6-3-4	Winnie de Poeh

10. In onderstaande nieuwsberichten ontbreken een aantal woorden. Vul de ontbrekende tekst in.

A.	De politie heeft zondag 14 januari ... [1] aangehouden die met ... [2] bovenlijf over straat rende. De man werd aangetroffen bij het ... [3] in Beugen.	[1]	Een man
		[2]	Ontbloot
		[3]	Transportcentrum
B.	Op de Hapseweg in Beugen is ... [1] een automobilist op de kop in de ... [2] beland.	[1]	Donderdagmiddag
		[2]	Sloot
C.	De van oorsprong Beugense onderneming ... [1] viert dit jaar het ... [2] jubileum.	[1]	Jenniskens Kraanverhuur
		[2]	Gouden
D.	Het bedrijf BK Pharma Logistics vestigt zich op bedrijventerrein Sterckwijck. In Beugen worden ... [1] opgeslagen en met een eigen ... [2] vervoerd door heel ... [3].	[1]	Medicijnen
		[2]	Wagenpark
		[3]	Europa
E.	Toneelvereniging Beugen speelt ... [1] van Karin Zweers. Van huis en haard is een komische ... [2] met humor, melancholie en spanning. De regie is in handen van ... [3].	[1]	Van Huis en Haard
		[2]	Thriller
		[3]	Mirjam Wijnen

11. Afgelopen jaren zijn er in Beugen veel Pokémon-figuren gevangen. Herken jij onderstaande Pokémon-figuren?

				
Naam	Blastoise		Hypno	
				
Naam	Mewto		Pikachu	
				
Naam	Snorlax			

12. Maak de zin af door een Nederlandse plaatsnaam in te vullen.

A.	Mijn neefje kan sinds kort lopen, ze hebben nu geen ... nodig	Boxmeer
B.	Als ik later rijk ben, koop ik zeker ...	Driehuizen / Zevenhuizen
C.	Onlangs een jeans gekocht, helaas te groot en nou zit ik met een te ... te kijken	Grotebroek
D.	Laatst met mijn moeder de grind opnieuw verdeeld, ik zeg ...	Harkenma
E.	Zelden zo iets lelijks gezien, wat een ...	Monster

13. In Beugen hebben we nodige boeren; sommige van hen zoeken nog een vrouw. Hieronder zie je een aantal vrouwen die in het bekende programma van Yvon Jaspers een boer zochten. Welke boer hoort bij deze vrouwen?

A.		Bertie
B.		Martijn
C.		Jan



## Categorie 9: Donateurs

1. Wij onze donateurs zeer erkentelijk voor hun bijdrage. *Part of the deal* is een nadere kennismaking met onze donateurs. Hoe goed kennen jullie onze donateurs? Een start!

A.	Bij welke donateur is <i>Duschi</i> vaste assistent?	De Passand
B.	Eén uiteinde van het Kerkepad eindigt bij één van onze donateurs; welke donateur?	Groepsaccommodatie de Vilt
C.	Deze donateur heeft 4 vestigingen in de provincies Brabant, Gelderland en Limburg. Welke donateur is dat?	Bol Adviseurs
D.	Over "vier" gesproken. Welke donateur heeft 4 puzzelstukjes als logo?	Concillio Personeelsdiensten
E.	Waar staan de letters LMB voor in de bedrijfsnaam LMB Brienen?	Landbouw Mechanisatie Bedrijf
F.	"Zorgen dat onze klanten tevreden zijn door maatwerk te leveren" is een streven van deze donateur.	Martens Bouw
G.	Bij deze donateur kun je 6 pakketten aanschaffen, zoals De Luxe, Basis en het Crisis pakket. Welke donateur is dat?	Mobieltaria

2. Mola

A	Mola levert o.a. appelflappen en saucijzenbroodjes. Het Latijnse woord Mola betekent in het Nederlands ...	Molensteen
---	--	------------

3. Van Keijsteren

A.	Welke van Keijsteren-telg prijs op de bedrijfswebsite de werkkleding, het schoeisel en PBM aan?	Arnoud
----	---	--------

4. Jumbo

A.	De Jumbo is ook al een aantal jaar trouwe sponsor van de Knakworstrennen. We zochten op de Jumbo-website naar "Beugen", helaas was er niks op voorraad. Naar welk artikel stuurt de website je door met het zoekwoord "Beugen"?	Grolsch Bier
----	---	--------------

## 5. Café-Eethuis-Zaal het Posthuis

We hebben inmiddels honger gekregen en gaan naar het Posthuis. We bestellen daar een tomatensoep, saté en een dame blanche.

A.	Wat moeten we hiervoor afrekenen?	27,50€
B.	Bij het ophalen van het quizboek door jullie teamcaptain stonden er een aantal paaltjes. Hoeveel paaltjes stonden er?	5
C.	Achter de organisatietafel hing een klok. Op welke tijd stond deze klok stil?	23:30uur

## 6. Multicopy

A.	Naast Nijmegen kun je Robert Gijsbers ook treffen in een andere vestiging. Welke?	Venray
B.	Welke award sleepten Robert en Marjan binnen in 2016?	Design Award

## 7. Groepsaccommodatie De Vilt

A.	Er is een clinic te boeken bij een verblijf in groepsaccommodatie De Vilt. Welke clinic?	Knakworstrennen
B.	Als je niet uitkijkt, wordt je opgesloten in een bepaalde ruimte. Welke ruimte?	De Schop

## 8. Sander Graat úw topSlijter

A.	Sinds welke datum staat Sander Graat ingeschreven als úw topSlijter?	1 oktober 2015
B.	Onder welke bedrijfsnaam stond Sander Graat hiervoor bekend?	Gall & Gall

## 9. Cafeteria Franny

A.	Hoeveel jaar bestaat Cafeteria Franny dit jaar?	20 jaar
----	---	---------







## 10. De Dorpsraad is al jaren goed bezig binnen de Beugense gemeenschap.

A.	Was is de titel van het onderzoeksboekje die begin dit jaar werd thuisbezorgd?	Kijk op Beugen 2025
----	--	---------------------

## 11. De organisatie loopt in prachtige, beschikbaar gestelde shirts.

A.	Door wie zijn de shirts van de organisatie gesponsord?	De Spiekerbox
B.	Als je bij deze donateur binnenloopt, wat zie je dan direct aan de linkerkant?	Riemen / Onderbroeken

12. Hieronder zie je een vermenging van 2 logo's: 1 Beugens bedrijf en 1 algemeen bekend bedrijf/organisatie. Welke bedrijven/organisaties herken je hierin?

		
Naam 1	LMB Brienen	Concillio Personeelsdiensten
Naam 2	Chanel	Microsoft
		
Naam 1	De Passand	Dorpsraad Beugen
Naam 2	Lacoste	Nestle
		
Naam 1	Hahebo	Verheijen Bloembollen
Naam 2	Adidas	Ster

13. Hieronder zie je de namen van 5 donateurs. In welk jaar is dit bedrijf opgericht óf heeft de huidige eigenaar het bedrijf overgenomen? De jaartallen krijg je van ons:  
1991 | 1994 | 2007 | 2009 | 2016

A.	Café het Posthuis	2009
B.	De Passand	2007
C.	Groepsaccommodatie De Vilt	1994
D.	De Spiekerbox	1991
E.	Beugens Bakhuys	2016





14. In De Info is veel gecommuniceerd over de 1<sup>e</sup> editie van de Dorpsquiz Beugen.

A.	In één van de Info-berichten is een spelfout gemaakt. Op welke datum verscheen deze Info? Ga uit van een dinsdag als datum.	22 mei
B.	In het Info-bericht waarin ook Mental Theo wordt aangehaald, zijn $2 \times 2 = 4$ getallen verborgen. Noteer de 4 ontbrekende getallen.	95 / 41

15. We zijn op zoek naar synoniemen voor het woord "donateur" met een opgegeven aantal letters.

A.	Ander woord voor donateur met 5 letters	Gever
B.	Ander woord voor donateur met 8 letters	Schenker
C.	Ander woord voor donateur met 11 letters	Begunstiger

16. Hieronder zie je een aantal *face-swaps*. Welke twee eigenaren herken jij in elke foto?

		
Naam 1	Ellen Gerrits	Geert Meulenstein
Naam 2	Anny Obers	Sander Graat
		
Naam 1	André Peters	Peter Martens
Naam 2	Peter van Keijsteren	Robert Gijsbers

17. Stuur één fijnproever (lees: slechts één persoon) naar het Beugens Bakhuis (en ook op het juiste tijdstip) en kom dus vooral niet te laat! Ter plaatse wordt de vraag gesteld. Hoe laat jullie fijnproever wordt verwacht, is op het tijdschema weergegeven.

A.	Antwoord	Kaas Kebab Soufflesse
----	----------	-----------------------



## Categorie 10: Geheime opdracht thuis

Over deze geheime opdracht wordt nog geen nadere toelichting gegeven.

Wat jullie voor nu belangrijk is om te weten:

- Deze geheime opdracht mogen jullie uitvoeren op jullie opgegeven adres.
- Omstreeks 19:00 uur ontvangen jullie een app-bericht plus e-mailbericht met daarin een uitleg van de opdracht.
- Het app-bericht en e-mailbericht wordt verzonden naar de contactgegevens die wij van jullie captain ontvingen.  
Houdt dus telefoon en e-mail in de gaten.
- De opdracht dient vóór een bepaalde tijd ingeleverd te worden.  
De daadwerkelijke deadline voor inlevering voor deze opdracht wordt pas in het app-bericht en e-mailbericht aangegeven.
- Te laat ingeleverd (of niet ingeleverd) betekent automatisch geen punten.  
Lever altijd de opdracht in, ondanks dat deze wellicht niet volledig is afgerond. Ook een deels ingeleverde opdracht levert punten op.

## Categorie 11: Geheime opdracht bij het Posthuis

Over deze geheime opdracht wordt slechts beperkte, nadere toelichting gegeven.

Wat jullie voor nu belangrijk is om te weten:

- *Per team wordt er gevraagd om één persoon die de opdracht in Café het Posthuis zal uitvoeren. Ter plaatse ontvangt deze persoon nadere instructies van de organisatie.*
- *In het tijdschema is een overzicht opgenomen van de tijdstippen waarop je verwacht wordt voor instructie (tijdstip aanwezig) en het tijdstip waarop de opdracht voor jullie team start (tijdstip aanvang).*
- *Start op tijd! Zorg er dus voor dat je aanwezig bent op het tijdstip waarop je aanwezig dient te zijn. Te laat kan betekenen dat je niet kunt deelnemen aan deze opdracht en dat betekent in dat geval ook geen punten! Er zijn liefst 50 punten te verdienen, dus ben op tijd!*
- *Alsjeblieft, ook nog een hint om de juiste persoon te kiezen:  
“Wie is er gek op Italiaans?”*

---

## Teams die deelnamen aan de 1<sup>e</sup> editie van de Dorpsquiz Beugen

---

Allegaatje		Ruud van de Kerkhof
Alles Kan		Dani Centen
Asjemenou		Wilma Schaminée
Bakerstreet		Hans Jacobs
Beugen buiten		Alfred Philipse
BoxPower		René Nouwen
Bugges oudsten		Lenie Fransen
Bugges team		Gertjan Verdijck
Buurtvereniging De Heidebloem		Joop van Otterdijk
Culinaire Club		Leo Kocken
CWB		Luc Fransen
De Aardappeleters		Piet Wouters
De Kneuzen		Richard Bindels
De Maaskampers		Freek Bindels
Dit is een goed stel		Rowan van den Heuvel
Gradjes		Piet Jansen
Het Gilde		Patrick Centen
Het Groot Niet Te Vermijden		Reggy Janssen
Neighbours		Anita Aben
PP's Parels		Ester Hesem
Qua patet orbis		Joyce Raafs
QuizQueens 		Stefanie Rutten
Team B		Monique Schaminee
The Big Beugen Theory		Wout van de Steeg
The Bighouse Family		Rob Groothusen
The O'Briens		Ryanne Brienen
Verhocken		Elien Verhoeven
Voor de leut!		Sandra Cremers
Witse wahl		Fieke van de Kerkhof
Witte Gei't		Max Meulenstein

---

**HARTELIJK DANK VOOR JULLIE DEELNAME !**

---